

به نام حق **آزمون پایانی ریاضی** پایه : دوم کلاس : دوم دبستان :

نام و نام خانوادگی : معلم مربوطه: مورخه /

۱- نوشتن عدد را ادامه بدهید؟

۱۰ - ۲۰ - ○ - ۴۰ - ○ - ○ - ○ - ۸۰ - ○ - ○

سی صدو یک - سی صدو دو - سی صدو هشت

۲- با رقم های ۳، ۹، ۸، تا می توانید عددهای سه رقمی بنویسید.

۳- با استفاده از محور اعداد حاصل عبارت را پیدا کنید.

۹ + ۶ - ۴ ○



۴- الگوی عددی زیر را ادامه بده. ۲ - ۶ - ۸ - - - - -

۵- حاصل جمع ها و تفریق های زیر را به دست بیاورید.

۷ + ۳۰ + ۲ + ۱۰۰ = ○ ۱۲ - ۴ = ○ ۷۰ - ۲۰ = ○ ۵۰۰ + ۳۰۰ = ○

۶- جاهای خالی را کامل کن.

..... دسته ده تایی به اضافه دسته ده تایی می شود ده تایی. یعنی ۵۰ + ۳۰ =

۷- نام این شکل ها را همراه با تعداد ضلع هایشان بنویس.




..... ضلع



..... ضلع



..... ضلع



..... ضلع

۸- برای هر شکل یک خط تقارن بکش.



۹- ارزش سکه های هر قسمت را بنویس.




ریال



ریال



ریال



۱۰- به سوالات زیر پاسخ بده.

ساعت چند است ؟

۳۰ دقیقه بعد از ساعت ۷:۰۰ چند است ؟

۲۰ دقیقه بعد از ساعت ۶:۱۵ چند است ؟

۱۱- ۴ دسته صد تایی ۳ دسته ده تایی و ۸ یکی می شود.


به عدد : به حروف :

یکان دهگان صدگان

۱۲- اندازه خط های زیر را با خط کش بگیرید و به صورت سانتی متر و میلی متر بنویسید.

اندازه ی خط سانتی متر و میلی متر است .

۱۳- برای شکل های زیر جملات را کامل کن.



..... از قسمت مساوی رنگ شده است. از قسمت مساوی رنگ شده است. از قسمت مساوی رنگ شده است

۱۴- جواب جمع و تفریق ها را به سه روش مختلف به دست آورید.

تقریبی ۸۷ → +۴۳ → +	تکنیکی (با انتقال) ۷۳۴ -۲۱۶	فرایندی (از سمت صدگان) ۳۶۲ +۱۲۵ + +
--	---	---

۱۵- با اعداد مناسب کامل کن .



..... دسته تایی می شود

۱۶- علامت < = > بگذارید

۹۸ ○ ۷۶

۳۷۹ ○ ۷۹۳

..... = ۲۰۰ + ۲۰۰ ○ ۴۰۰ - ۱۰۰ =


۱۷- با میلی متر اندازه گیری کنید.

..... میلی متر



..... میلی متر


..... میلی متر



..... میلی متر

۱۸- تعداد گل های باغچه ی ماهان به صورت جدول زیر است، این اطلاعات را با نمودار ستونی نشان بده .

هر گل را با شکل رسم کنید



۳	محمدی
۵	یاس
۸	نرگس
۶	رز
۲	بنفشه

گل های شاداب من موفق باشید .

بازخورد معلم :